

Karta pracy

Kartkówka Liczmanka nr 4

Klasa 3 – grudzień – blok 3 – dzień 1

Napisz swoje imię i nazwisko.



Zadanie 1

Oblicz sumę liczb:

34 i 23

[illegible]

43 i 54

[illegible]

28 i 12

[illegible]

/1p

Zadanie 2

Oblicz różnicę liczb:

65 i 23

[illegible]

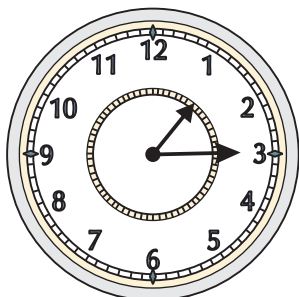
87 i 43


[illegible]


/1p


Zadanie 3

Napisz, którą godzinę wskazuje zegar?









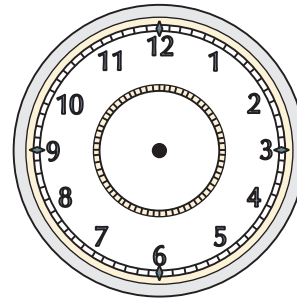
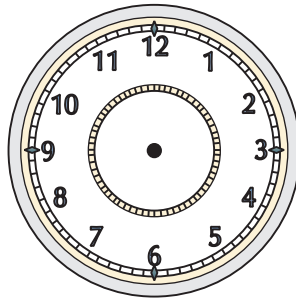
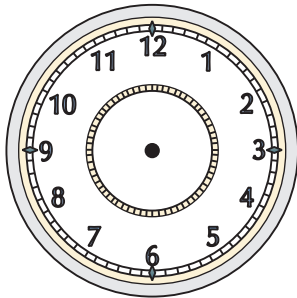
/4p

Karta pracy

Klasa 3 – grudzień – blok 3 – dzień 1

Zadanie 3

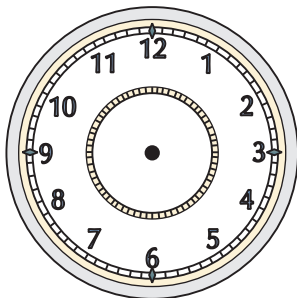
Zaznacz na pierwszym zegarze godzinę 14.00, na drugim o kwadrans większą, a na trzecim o dwa kwadranse większą niż na pierwszym.



/3p

Zadanie 4

Ania wyszła ze szkoły o godzinie 14.30. Droga do domu zajęła jej dwa kwadranse. Zaznacz na zegarku godzinę, o której Ania była w domu.



/2p

Zadanie 5

Podkreśl właściwą odpowiedź.

Jedno masło waży 25 dag. 3 kostki masła ważą:

- a) 75 dag
- b) 65 dag
- c) 30 dag

/1p

Zadanie 6

Podkreśl właściwą odpowiedź.

Jeden mały kartonik ma pojemność ćwierć litra. Ile kartoników można przelać do litrowego dzbanka?

- a) 3 kartoniki
- b) 4 kartoniki
- c) 6 kartoników


/1p

Karta pracy

Klasa 3 – grudzień – blok 3 – dzień 1

Zadanie 7

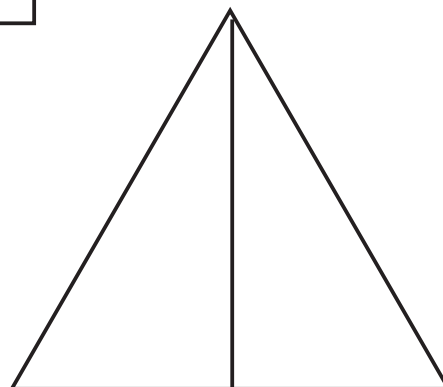

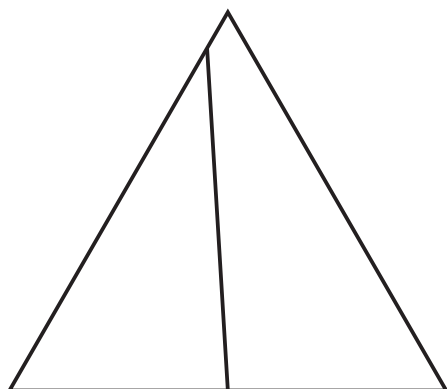
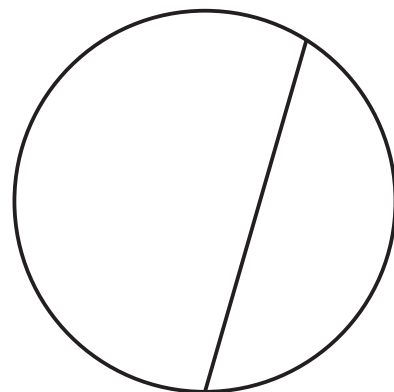


Podziel na ćwiartki narysowane poniżej figury.



/2p

Zadanie 8

Pokoloruj tylko te figury, które zostały podzielone na połowę.



/2p

Razem /17p